

准考证号

姓名

# 2024 国考考前押题卷

## 《行政职业能力测验》

### 押题卷

#### 重要提示：

为维护您的个人权益，确保公务员考试的公平公正，请您协助我们监督考试实施工作。

本场考试规定：监考老师要向本考场全体考生展示题本密封情况，并邀请 2 名考生代表验封签字后，方能开启试卷袋。



## 第一部分 常识判断

(共 20 题, 参考时限 10 分钟)

根据题目要求, 在四个选项中选出一个正确答案。

请开始答题:

- 2023 年 5 月 1 日出版的第 9 期《求是》杂志发表习近平的重要文章《在学习贯彻习近平新时代中国特色社会主义思想主题教育工作会议上的讲话》。文章强调, 要深刻认识开展这次主题教育的重大意义, ( )  
①这是统一全党思想意志行动、始终保持党的强大凝聚力、战斗力的必然要求  
②这是推动全党积极担当作为、不断开创事业发展新局面的必然要求  
③这是深入推进全面从严治党、以党的自我革命引领社会革命的必然要求  
④这是推动构建人类命运共同体、在百年未有之大变局中把握主动的必然要求  
A. ①②  
B. ③④  
C. ①②③  
D. ①②③④
- 习近平在学习贯彻党的二十大精神研讨班开班式上发表重要讲话强调正确理解和大力推进中国式现代化, 关于这次研讨班说法错误的是 ( )  
A. 概括提出并深入阐述中国式现代化理论, 是党的二十大的一个重大理论创新  
B. 推进中国式现代化必须抓好党的领导的工作  
C. 初步构建理论体系, 使中国式现代化更加清晰、更加科学、更加可感可行  
D. 党的领导直接关系中国式现代化的根本方向、前途命运、最终成败
- 2023 年 6 月, 《求是》杂志发表习近平在 2023 年 2 月 7 日在新进中央委员会的委员, 候补委员和省级主要领导干部学习贯彻习近平新时代中国特色社会主义思想和党的二十大精神研讨班上的讲话。讲话指出, 党的二十大报告明确指出, ( )。这是对中国式现代化定性的话, 是管总, 管根本的。  
A. 社会主义现代化建设是为实现中华民族伟大复兴而奋斗的远景目标  
B. 中国式现代化是中国共产党领导的社会主义现代化  
C. 要坚持发展是硬道理, 坚持改革创新是关键, 坚持依法治国是保证  
D. 要坚持全面从严治党, 坚持人民至上, 坚持贯彻新发展理念
- “2023·中国西藏发展论坛”5 月 23 日在北京开幕, 主题为“新时代、新西藏、新征程——西藏高质量发展与人权保障的新篇章”。习近平致贺信, 习近平指出, 在推进中国式现代化的新征程上, 希望西藏完整、准确、全面贯彻新发展理念, 加快推进高质量发展, 努力建设 ( ) 的社会主义现代化新西藏, 让人民过上更加幸福美好的生活。  
A. 团结富裕文明民主美丽  
B. 平等富裕法治和谐美丽  
C. 团结民主文明和谐平等  
D. 团结富裕文明和谐美丽
- 神舟十六号载人飞船入轨后, 于北京时间 2023 年 5 月 30 日 16 时 29 分, 成功对接于空间站天和核心舱径向端口, 对接完成后, 空间站形成三舱三船组合体。三船是指 ( )

## 速小通资料库

- A. 神舟十六号载人飞船、天舟六号货运飞船、天舟五号货运飞船  
B. 神舟十六号载人飞船、神舟十五号载人飞船、天舟六号货运飞船  
C. 神舟十六号载人飞船、神舟十四号载人飞船、天舟六号货运飞船  
D. 神舟十六号载人飞船、神舟十五号载人飞船、天舟五号货运飞船
6. 2023年4月3日，学习贯彻习近平新时代中国特色社会主义思想主题教育工作会议在北京召开，习近平总书记出席会议并发表重要讲话，提出了这次主题教育的总要求。这个总要求是（ ）  
①学思想 ②抓政治 ③搞调研 ④强党性  
⑤重实践 ⑥促发展 ⑦建新功 ⑧尽职责  
A. ①④⑤⑦  
B. ②③④⑧  
C. ②④⑤⑥  
D. ③⑤⑦⑧
7. 2023年全国两会上，“大兴调查研究之风”写入政府工作报告。近日，中共中央办公厅印发（ ）指出：“党中央决定，在全党大兴调查研究之风。”  
A. 《关于在全党大兴调查研究的工作方案》  
B. 《关于在全党大兴调查研究的工作意见》  
C. 《中共中央关于在全党大兴调查研究的工作方案》  
D. 《中共中央关于在全党大兴调查研究的工作意见》
8. 下列关于维生素的说法错误的是（ ）  
A. 缺乏维生素 B1 会引起胃部不适，便秘、乏力、脚气病症状  
B. 缺乏维生素 E 会引起坏血病、免疫力下降、贫血等症状  
C. 缺乏维生素 B2 会引起唇部干裂、口舌炎症、口腔溃疡等症状  
D. 缺乏维生素 A 易出现头发干枯、记忆力减退、心情烦躁及失眠等症状
9. 夏日雷雨过后，人们会感到空气特别清新，这是因为在雷电时空气发生了化学作用，在这个过程中，生成的化学物质是（ ）  
A. 二氧化氮  
B. 氟利昂  
C. 臭氧  
D. 二氧化硫
10. 某农作物价格较高，一些农民便开始大面积种植，结果导致该农作物市场滞销，农民损失惨重。这一事例说明（ ）  
A. 没有计划经济，也就没有真正的市场经济  
B. 激烈的市场竞争使资源配置得到优化  
C. 两极分化是市场经济的必然结果  
D. 市场经济有盲目性，国家必须加强宏观调控
11. 中华传统美德是中华优秀传统文化的重要组成部分，其内容博大精深、源远流长。从《诗经》中的“夙夜在公”到《尚书》中的“以公灭私”，从西汉贾谊《治安策》中的“国而忘家，公而忘私”到宋代范仲淹《岳阳楼记》中的“先天下之忧而忧，后天下之乐而乐”，贯穿其中的传统美德是（ ）  
A. 强调知行合一，注重躬行实践  
B. 推崇“仁爱”原则，注重以和为贵  
C. 重视整体利益，强调责任奉献  
D. 提倡人伦价值，重视道德义务
12. 关于中国文学作品，下列说法错误的是（ ）

## 速小通资料库

- A. 虎妞是老舍《骆驼祥子》里的主要人物之一
- B. 《死水》是闻一多揭露旧社会黑暗，表达爱国情怀的作品
- C. 茅盾的《林家铺子》原名为《倒闭》
- D. 孙犁的《风云初记》表现了农村妇女既温柔多情，又坚贞勇敢的性格和精神
13. 下列诗句与端午节有关的是（ ）
- A. 竞渡深悲千载冤，忠魂一去讵能还                      B. 但将酩酊酬佳节，不用登临恨落晖
- C. 千门万户曈曈日，总把新桃换旧符                      D. 烟霄微月澹长空，银汉秋期万古同
14. 根据马克思主义政治经济学的相关知识，下列选项中正确的是（ ）
- A. 某企业的资本总量为 2000 万，其中 1200 万用于购买生产资料，800 万用于购买劳动力，一年获得的剩余价值为 400 万，则该企业的剩余价值率为 20%
- B. 经营钢厂的资本家购买的用于生产的铁矿石属于不变资本和流动资本
- C. 在资本主义商品生产的条件下，每个资本家总是力图不断改进技术，改善经营管理，提高劳动生产率，使其生产的商品个别价值低于社会价值，从而获得相对剩余价值
- D. 资本主义的基本矛盾是资产阶级与无产阶级的矛盾
15. 在生物学上，一般把生物的生理特征和形态特征叫作（ ）
- A. 遗传性状    B. 生物性状
- C. 生理性状    D. 变异性状
16. 下列生活常识说法有误的一项是（ ）
- A. 核酸是遗传信息的载体    B. 脂类是生物体内一大类重要的有机化合物
- C. 无机盐在体内通常以离子状态存在                              D. 细胞内质是细胞的重要成分
17. （ ）指有史以来曾经喷发过，但长期以来处于相对静止状态的火山，如我国长白山天池。
- A. 活火山    B. 死火山
- C. 休眠火山    D. 火山锥
18. 下列物理学家与描述对应错误的是（ ）
- A. 牛顿——万有引力、电的相互作用和磁的相互作用，可以在很远的地方明显地表现出来，因此用肉眼就可以观察到
- B. 费曼——没有人真正了解量子力学
- C. 安培——“电学之父”、在科学上，每一条道路都应该走一走，发现一条走不通的道路，就是对于科学的大贡献
- D. 阿基米德——“力学之父”、给我一个支点我可以翘起整个地球
19. 下列说法错误的是（ ）
- A. 通过低温液化的方法可以分离出沼气中的甲烷
- B. 钢按照成分的不同可分为低碳钢、中碳钢和高碳钢
- C. 银质首饰在含硫的温泉中容易变色
- D. 常温条件下，汞是唯一保持液态的金属
20. 下列不属于物联网技术的有（ ）
- A. 射频识别    B. 网络技术

C. 红外感应器

D. 智能家居

## 第二部分 言语理解与表达

(共 40 题, 参考时限 40 分钟)

本部分包括表达与理解两方面的内容。请根据题目要求, 在四个选项中选出一个最恰当的答案。

请开始答题:

21. 党的十八大以来, 面对\_\_\_\_\_的国际形势、复杂敏感的周边环境、艰巨繁重的改革发展稳定任务, 以习近平同志为核心的党中央坚持底线思维, 增强忧患意识, 提高防控能力, 着力防范化解重大风险, 保持了经济持续健康发展和社会大局稳定。

填入画横线部分最恰当的一项是 ( )

A. 波谲云诡

B. 历久弥新

C. 层出不穷

D. 日新月异

22. 6 个“祭祀坑”的“\_\_\_\_\_”让三星堆“再惊天下”。黄金面具、青铜人像、青铜尊、玉琮、象牙微雕、丝绸……是谁把这么多“宝贝”埋在“祭祀坑”? 三星堆的国王是谁? 宫殿在哪儿? 青铜器作坊在何处? ……除了“祭祀坑”, 三星堆还有啥?

填入画横线部分最恰当的一项是 ( )

A. 重见天日

B. 柳暗花明

C. 死而复生

D. 卷土重来

23. 教育事业, 事关国家和民族未来。特别是以中小学为主的基础教育, 本应是一个公益性为主的良心事业, 但\_\_\_\_\_, 随着校外培训“香饽饽”越蒸越大, 教育已成为一些人逐利的战场, 甚至一些资本把教育作为赌场。校外培训\_\_\_\_\_, 学生、家长苦不堪言, 却又难以自拔。

依次填入画横线部分最恰当的一项是 ( )

A. 针锋相对 轰轰烈烈

B. 事倍功半 方兴未艾

C. 南辕北辙 风起云涌

D. 事与愿违 如火如荼

24. 国内的快递物流业在短时间内取得了迅速的发展, 与此同时, 国内快递业正经历着由单一的劳动密集型向技术密集型\_\_\_\_\_, 科技创新日益成为行业发展共识, 对快递专业技术人才的需求\_\_\_\_\_。

依次填入画横线部分最恰当的一项是 ( )

A. 改变 日新月异

B. 跨越 日积月累

C. 迈进 突飞猛进

D. 转变 与日俱增

25. 建设美丽家园是人类的共同梦想。面对生态环境\_\_\_\_\_, 人类是一荣俱荣、一损俱损的命运共同体, 没有哪个国家能\_\_\_\_\_。唯有携手合作, 我们才能有效应对气候变化、海洋污染、生物保护等全球性环境问题, 实现联合国 2030 年可持续发展目标。只有并肩同行, 才能让绿色发展理念深入人心、全球生态文明之路行稳致远。

依次填入画横线部分最恰当的一项是 ( )

A. 问题 明哲保身

B. 挑战 独善其身

## 速小通资料库

C. 威胁 袖手旁观 D. 冲击 自力更生

26. 我们应当回归一种自然而然的发展，不要\_\_\_\_\_的发展。中国经济进入新常态，新常态就是\_\_\_\_\_的增长，也就是说，不要以往那么快的经济增长了，太快会有很多的不协调。

依次填入画横线部分最恰当的一项是（ ）

A. 南辕北辙 中高速 B. 拔苗助长 超高速  
C. 拔苗助长 中高速 D. 南辕北辙 超高速

27. 这是不是意味着人类在诗歌领域的领先地位也要被超越了呢？不言而喻，人工智能发展\_\_\_\_\_，自诞生以来，其理论和技术日益成熟，应用领域也不断扩大。可以设想，未来人工智能带来的科技产品，将会是人类智慧的容器。人工智能可以对人的意识、思维信息过程进行模拟，它在精密计算和逻辑推理上的能力和潜力远超人类，但一旦进入人文艺术领域，人工智能就显得\_\_\_\_\_了。

依次填入画横线部分最恰当的一项是（ ）

A. 迫在眉睫 进退维谷 B. 与众不同 入不敷出  
C. 日新月异 捉襟见肘 D. 改弦更张 骑虎难下

28. 春节临近，安徽省合肥市肥东县牌坊乡“武郎面塑”非遗传承人武建付捏制各色\_\_\_\_\_传神的卡通牛喜迎牛年。面塑俗称面花、捏面人，是起源于汉代的民间艺术，以面粉、糯米粉为主要原料，经过防裂防霉处理后制成柔软的彩色面团，经过捏、搓、揉、刻、切、划……数分钟后，一个个\_\_\_\_\_、形神兼备的手工艺品便呈现眼前。

依次填入画横线部分最恰当的一项是（ ）

A. 精美 出神入化 B. 精细 妙手丹青  
C. 精致 栩栩如生 D. 精巧 画龙点睛

29. 良知需要的是温暖而非\_\_\_\_\_。政绩的单向考核、惯例的数字出官和竞争型、压力型的政府工作状态，使得一些干部从政心态变化，对百姓的生活疾苦\_\_\_\_\_，对百姓的意愿诉求麻木不仁，直至积累的矛盾爆发，才如梦方醒。

依次填入画横线部分最恰当的一项是（ ）

A. 冷漠 无动于衷 B. 热情 浑然不觉  
C. 淡漠 避重就轻 D. 虚假 置若罔闻

30. 剧院是城市文化的一部分，必须与所在的城市\_\_\_\_\_，才能提升城市与剧院自我的品质。美育是每个人发展的内在诉求，对美好生活的向往离不开美育的普及。剧院作为一个城市或地区重要的艺术殿堂，\_\_\_\_\_城市 and 地区文化品位的主要途径就是美育。

依次填入画横线部分最恰当的一项是（ ）

A. 水乳交融 提升 B. 情投意合 推动  
C. 如履薄冰 推进 D. 相辅相成 提拔

31. 选择目标是人生最重大的自我设计，必须切实了解自己的\_\_\_\_\_和环境的利弊。目标可以定得高一点，但必须切合自己的实际——否则，便绝无实现的可能。\_\_\_\_\_的人生不能离开了脚踏实地的前提——凌空蹈虚是极少数大科学家与大艺术家的专利或特权，绝大多数的人是效仿不得的。

依次填入画横线部分最恰当的一项是（ ）

A. 长短 志存高远 B. 优势 辉煌灿烂



## 速小通资料库

- C. 特点 高瞻远瞩  
D. 好坏 淡泊名利
32. 承受是一种精神，是人生\_\_\_\_\_而美丽的一番心境。不论你愿意与否，生活本身的内容，决定了我们终将是山、是海，是那只\_\_\_\_\_、默默跋涉的戈壁骆驼，终将以胸怀以肩膀去承受生活的各种施加。依次填入画横线部分最恰当的一项是（ ）
- A. 甜蜜 孑然一身  
B. 奇异 形单影只  
C. 酸涩 孤苦伶仃  
D. 苦涩 踽踽独行
33. 我们生于斯长于斯，书中描绘的现象我们已\_\_\_\_\_，借助这面镜子，从一个老外的视角看我们自己生活中的无数\_\_\_\_\_，竟至于吹毛求疵。因而可以说，书中表现出来的猎奇感和幽默感使该书在中国也大受欢迎。依次填入画横线部分最恰当的一项是（ ）
- A. 耳熟能详 丑恶  
B. 了如指掌 琐事  
C. 司空见惯 细节  
D. 熟视无睹 片段
34. 截至 2020 年底，中国网民规模为 9.89 亿人。庞大的网民数量是发展数字经济的基石，数据成为数字经济的重要\_\_\_\_\_。不过，保护个人信息与数字经济发展并不对立。专家认为，关键在于以保护个人权益和促进信息合理流通为准绳，找到信息利用和安全的\_\_\_\_\_。依次填入画横线部分最恰当的一项是（ ）
- A. 驱动力 平衡点  
B. 牵引力 制高点  
C. 推动力 转折点  
D. 判断力 切入点
35. 作为负责任、有担当的大国，中国抗疫秉持的不是\_\_\_\_\_，而是兼济天下；中国发展追求的不是一花独秀，而是\_\_\_\_\_。我们将坚持团结互助，与各国携手最终战胜新冠肺炎疫情；坚持开放合作，与各国携手推动世界经济复苏；坚持多边主义，与各国携手打造命运共同体。依次填入画横线部分最恰当的一项是（ ）
- A. 与众不同 春意盎然  
B. 反求诸己 冬日夏云  
C. 独善其身 春色满园  
D. 独善吾身 春华秋实
36. 只有军营文化人才的可持续，才能带来军营文化的可持续。很显然，一切焚林而田、\_\_\_\_\_的做法都应该被叫停，避免对文化人才的过度使用、超前透支，真正树立可持续的人才观是\_\_\_\_\_。依次填入画横线部分最恰当的一项是（ ）
- A. 杀鸡取卵 首当其冲  
B. 削足适履 大势所趋  
C. 亡羊补牢 重中之重  
D. 竭泽而渔 当务之急
37. 居安思危，思则有备，有备无患。从一座渔村成功走向一个现代化国家，忧患意识成为新加坡人\_\_\_\_\_的精神财富。如何让忧患意识推动改革，避免让成功经验成为阻碍前进的藩篱，新加坡人的思索没有\_\_\_\_\_。依次填入画横线部分最恰当的一项是（ ）
- A. 独一无二 中断  
B. 不可或缺 停止  
C. 无与伦比 止境  
D. 必不可少 放弃



## 速小通资料库

38. 许多时候，我回忆起童年的那些庄稼和野草，总有一种酸酸的滋味，对于庄稼和野草，有一种说不清道不明的感觉，野草虽然\_\_\_\_\_，但人们还是有办法对付它们的，如今，农民们都在用除草剂来对付野草，希望田野里的杂草\_\_\_\_\_。

依次填入画横线部分最恰当的一项是（ ）

- A. 顽固 销声匿迹  
B. 顽劣 偃旗息鼓  
C. 固执 无影无踪  
D. 泛滥 斩草除根
39. 据报道，有的地方将洒水工人绩效与洒水次数挂钩，或硬性规定每天必须洒水，少洒一车水，或少赚一份钱，或难完成考核。这背后\_\_\_\_\_出一座城市的治理能力和服务水平，也暴露出一些部门谋事不足、行事机械、成事乏力，让公共服务沦为形式主义，与服务市民的初衷\_\_\_\_\_。

依次填入画横线部分最恰当的一项是（ ）

- A. 反射 天壤之别  
B. 反映 大相径庭  
C. 影射 本末倒置  
D. 折射 南辕北辙
40. 伟大精神的诞生，必然要以伟大的实践作为现实土壤。在中国共产党领导的血与火的革命中、\_\_\_\_\_的建设中、意气风发的改革中，涌现出了一大批辛勤付出、\_\_\_\_\_甚至不畏牺牲的工匠，促使具有无产阶级和社会主义性质的工匠精神\_\_\_\_\_。

依次填入画横线部分最恰当的一项是（ ）

- A. 高歌猛进 不求回报 轰轰烈烈  
B. 如火如荼 无私奉献 应运而生  
C. 方兴未艾 舍己为人 水到渠成  
D. 粉墨登场 舍己利人 顺理成章
41. ①也记录了中国古代政治、经济、文化、科技、军事等方方面面的丰富信息

②那是因为大运河是世界上开凿时间最早、规模最大、里程最长的运河

③它经历了上千年的沧桑风雨，积淀了内容丰富、底蕴深厚的运河文化

④它是中国悠久历史的缩影，是中华民族弥足珍贵的物质和精神财富

⑤人们常把黄河比喻为中华民族的母亲河，把大运河比作中华民族的生命之河

⑥还是中华文明传承发展的纽带，有人称它是一个“魂”

将以上 6 个句子重新排列，语序正确的是（ ）

- A. ③④①②⑤⑥  
B. ⑤②③①④⑥  
C. ④⑤①⑥③②  
D. ②①③⑥④⑤
42. ①面对瘾性消费，成瘾者无法有效控制自己的行为，有时候，停止或解除某种行为甚至会带来破坏性后果

②在技术的驱动下制造瘾性消费，对企业而言，在竞争日趋激烈的市场环境中，用户对自己的产品和品牌越沉迷，越能带动购买力，产生的经济效益就越多

③一旦上瘾，往往就会突破保持用户黏度的界限，同时瘾性经济也会受到舆论的质疑

④正因如此，如何创造瘾性消费几乎已成为一个公开的企业研究议题

⑤但需要警惕的是，心理学认定，对于个体而言，成瘾不是真需要，只是“超想要”

将以上 5 个句子重新排列，语序正确的是（ ）

- A. ③④⑤①②  
B. ③④①②⑤  
C. ②④⑤①③  
D. ②①⑤④③

## 速小通资料库

43. “万物生长靠太阳，EAST 拥有类似太阳的运行机制，因此有‘人造太阳’之称。”中科院合肥物质科学研究院等离子体物理研究所王腾博士说，煤、石油、天然气未来有枯竭的危险，还存在一定的环境污染，而“人造太阳”核聚变反应所需的原材料在地球上几乎取之不尽、用之不竭，生成物也没有危害，被认为是理想的“终极能源”。EAST 是我国重大科学工程，目标为人类开发核聚变能源提供工程和物理实验基础，建成以来已开展实验 96000 余次，先后实现了稳定的 101.2 秒稳态长脉冲高约束等离子体运行、电子温度 1 亿摄氏度 20 秒等离子体运行等国际重大突破。

下列说法与原文相符的是（ ）

- A. “人造太阳”核聚变反应所需的原材料在地球上一定取之不尽、用之不竭
  - B. 王腾博士说，煤、石油、天然气有枯竭的危险，还存在一定的环境污染
  - C. EAST 像太阳，因此有“人造太阳”之称
  - D. EAST 被认为是理想的“终极能源”
44. 不少共享充电宝调整了计费时长和收费标准，消费者对涨价痛感十分强烈。目前共享充电宝价格上涨多数情况尚属市场竞争的结果，不过，如果涨幅过高、频次过多，忽视了用户体验和感受，可能最终会造成消费者选择自行携带充电宝，导致用户流失。共享充电宝企业应充分考虑消费者承受水平，并保障好消费者的知情权选择权。相关监管部门也应及时跟进监管，避免涨价传导效应。

对文段概括最恰当的一项是（ ）

- A. 共享充电宝涨价应及时有效管理
  - B. 消费者对共享充电宝涨价十分不满意
  - C. 消费者选择自行携带充电宝来充电
  - D. 共享充电宝企业应充分考虑消费者承受水平
45. 据报道，2021 届高校毕业生总规模预计 909 万人，同比增加 35 万，面临的就业形势严峻复杂。当前，各级党委和政府十分关心高校毕业生等群体就业，将其作为重大民生工作任务，并积极创造条件确保高校毕业生就业。在这种背景下，有关企业应积极响应号召，为大学生就业创造有利条件，而不是设置障碍；应该用善意带给他们温情和信心，而不是出语伤人。

对这段文字概括最准确的是（ ）

- A. 说明当前大学生就业困难的外在原因
  - B. 企业应创造良好的就业环境缓解大学生就业
  - C. 企业与政府要积极为大学生就业创造条件
  - D. 政府在当前的环境下应保证大学生的就业
46. 防灾减灾，不是一时行动，而要长远谋划。做到防灾于未萌、处置于瞬时，就要常态化加强气象、洪涝、地质灾害监测预警，紧盯各类重点隐患区域；就要健全统一的应急物资保障体系，健全工作机制和应急预案；就要加强应急救援队伍建设，建设一支专常兼备、反应灵敏、作风过硬、本领高强的应急救援队伍；就要坚持社会共治，完善公民安全教育体系，推动安全宣传进企业、进农村、进社区、进学校、进家庭，筑牢防灾减灾救灾的人民防线。

这段文字意在说明（ ）

- A. 深谋远虑方可保障防灾减灾
  - B. 灾害监测预警需做到常态化
  - C. 政府应健全应急物资保障体系
  - D. 人民防线是防灾减灾的生命线
47. 网络直播营销，即直播带货，近年来发展迅速，在促进就业、扩大内需、提振经济等方面，发挥着积极作用。然而，也出现了不少问题。比如：直播营销人员言行失范，利用未成年人直播牟利，平台主

## 速小通资料库

体责任履行不到位，虚假宣传和数据造假，假冒伪劣商品频现，消费者维权取证困难，等等。此次《办法》的出台，有利于从制度层面解决好相关问题。

这段文字意在说明（ ）

- A. 网络直播带货既促进经济也带来问题
- B. 《办法》从制度上解决直播带货的问题
- C. 网络直播带货需加强引导，扬长避短
- D. 强调网络直播带货相关立法的必要性

48. 近年来，一系列以异乡人在北上广深等大都市漂泊、拼搏的经历为题材的“他乡剧”，频频成为媒体和观众关注的热点。实际上，\_\_\_\_\_。早在 20 世纪 90 年代，《外来妹》等反映改革开放大潮中农村青年闯入城市打拼的电视剧，就已成为街头巷尾热议的话题。近年来，随着社会转型的加速，这类作品再度趋于活跃。仅在 2021 年，便有《两个人的上海》《不惑之旅》《星辰大海》等多部作品播出，并获得了不俗的收视率。

填入画横线部分最恰当的一句是（ ）

- A. 时代生活是“他乡剧”的源头活水
- B. “他乡剧”的本质来源于现实生活
- C. “他乡剧”也不免出现了一些同质化倾向
- D. 在荧屏上，“他乡剧”算不上新鲜事物

49. 影片《长津湖》为了突出英雄形象的魅力，\_\_\_\_\_。例如，伍万里初次参战就冒死冲向最前线，其每次奋不顾身的战场奔跑都牵动其兄和老战士们的关切之心；梅生在激烈战斗后返回战场去捡起残破的女儿照片，体现其爱家、爱女儿的柔情一面；乱石滩上敌机轰炸后战士们的斑斑血迹，凸显战争的残酷性……这些人物形象及其相应的细节刻画，都突出了战役的艰苦卓绝和我军士兵的英雄主义精神。

填入画横线部分最恰当的一句是（ ）

- A. 该片注意营造相关感人细节
- B. 以双重视角分别叙述参战经过
- C. 采用了独特新颖的影像风格
- D. 彰显了各种全景式的战争奇观

50. 世界各国应该做到共生共存、互助互利，推动经济全球化朝着更加开放、包容、普惠、平衡、共赢的方向发展，让各国人民共享经济全球化和世界经济增长成果。中国在诸多国际领域的主张和行为秉承共生、共治、共享的原则推动全球性事务的协调与解决。\_\_\_\_\_。世界合作应该以平等为基础，确保各国在合作中权利平等、机会平等、规则平等。

填入画横线部分最恰当的一句是（ ）

- A. 世界各国加强合作，构成命运共同体
- B. 中国在外交上主张和平共处五项原则
- C. 世界各国应该做到互相帮助，互利共荣
- D. 中国提出国家不论大小、强弱、贫富，都应该平等相待

51. 经济的高速发展要求教育的配套发展，而教育的蓬勃发展又可促进经济的发展。国际化教育能够提高劳动力整体素质，能够促进科学技术创新。教育国际化是发展开放的需要。在经济对外开放的过程中，需要丰富国际知识，提高国际交往能力，以及对国际事务的了解和动态更新，这都要求高校融入世界。中国的大学要进入经济社会发展的大循环，就要适应经济社会的需要，研究世界经济的发展和走向，成为政府的智慧团、思想库。

这段文字意在强调（ ）

## 速小通资料库

- A. 中国高等教育应国际化
- B. 大学应成为政府的智囊团
- C. 教育要适应经济发展的需要
- D. 教育国际化已成为全球趋势

52. 这些年来，“创新”一直是电视业使用频次较高的主题词，不仅频现于管理层的官方文本，也成为电视人的口头禅以及电视业发展的普遍共识，但在节目样式研发、媒体运营等实际操作中难以落到实处。种种事实表明，最根本的原因在于，当下无论是宏观层面的环境、氛围还是微观层面的机制、心态，几乎都不支持，也不鼓励本土原创电视节目的自主研发创新。

以上文字意在说明中国电视业（ ）

- A. 创新能力弱，只能依靠“拿来主义”
- B. 创新难缘于宏观与微观环境的不支持
- C. 创新的重要性是行业发展的普遍共识
- D. 不肯在原创节目的自主研发上下功夫

53. 由中国演出行业协会制定发布的《演出行业演艺人员从业自律管理办法》将于下月起试行。其中明确规定：“根据演艺人员违反从业规范情节轻重及危害程度，分别实施1年、3年、5年和永久等不同程度的行业联合抵制；协同其他行业组织实施跨行业联合惩戒”。一旦演艺人员有劣迹，不等舆论和监管部门出手，行业协会就要“清理门户”。此次管理办法中规定得很细致，操作性较强，具体提到了15个“不得”。比如，不得在营业性演出中以假唱、假演奏等手段欺骗观众，不得利用人体缺陷、或者以展示人体变异等方式招徕观众等。这些规定深得人心，深受群众好评。

根据这段文字，以下说法正确的是（ ）

- A. 规范演艺人员的法规将会被改良
- B. 对于“劣迹艺人”行业最多抵制5年
- C. 重大活动为保证节目效果可以偶尔假唱
- D. 出现“劣迹艺人”应先由行业协会整治

54. 近年来，保健品市场兴起了一场“鱼油热”。鱼油即不饱和脂肪酸，适当地食用不饱和脂肪酸可以预防动脉硬化的发生，减轻动脉硬化的症状。一方面，鱼油可以调节血脂，能降低总胆固醇及“坏胆固醇”——低密度脂蛋白胆固醇。另一方面，鱼油可以改善记忆，保护视网膜。有说法称大剂量摄入鱼油能够帮助高血压患者有效降低血压，但有研究者总结31项国外研究发现，每天摄入鱼油虽能轻度降低血压，但如果剂量过大，则会刺激人体的胃肠道。此外，鱼油摄入量超标，还会转化为人体的脂肪储存，使人发胖，从而对身体产生负面影响。

最适合做这段文字标题的是（ ）

- A. 适当食用不饱和脂肪酸可治疗动脉硬化
- B. 摄入适当不饱和脂肪酸有利于身体健康
- C. 通过锻炼能够对身体产生积极影响
- D. 适量的不饱和脂肪酸能够有效改善记忆

55. 今年国庆档，《长津湖》《我和我的父辈》等影片积极运用全媒体手段开展营销活动，带动电影主题的全网热议，有力助推票房数据攀升。全媒体的发展使我国电影产业的生态格局处于持续变革中。网络文化生态正在深刻影响着电影的创作和宣发模式，大数据和智能算法的应用也正在赋能选题、评论、营销等产业环节。网络文化生态持续繁荣，多元娱乐产品层出不穷，对电影市场的冲击正在加剧。智能手机视听效果不断升级，直播、短视频等视听新形态的兴起，也在以强交互、短平快的形式改变着人们的观影习惯。在此背景下，电影产业正在不断探索全媒体时代的融合发展路径。

最适合做这段文字标题的是（ ）

- A. 全媒体时代：电影产业路更宽了
- B. 网络营销模式：发挥全媒体联动效应
- C. 智能化时代：传统赋能新产业
- D. 新型观影习惯：以强交互、短平快捷

56. 新中国成立以来，中国基础教育实现了跨越式发展，劳动年龄人口平均受教育年限由1.6年提升至10.8



## 速小通资料库

年，取得了举世瞩目的成就。但基础教育仍然存在重知识记忆、重考试分数等问题，即便是素质教育和科学教育，本来应该激发孩子们的学习兴趣，但因为“作业”而成了负担。要引导学生在基础学科教育和实验教学中掌握科学思维方法，在观察自然和社会现象中学会用科学精神来思考问题，让创新基因和科学薪火代代传承。

这段文字主要强调的是（ ）

- A. 中国基础教育实现了跨越式发展
- B. “作业”而成了孩子们的负担
- C. 基础教育仍然存在重知识记忆、重考试分数等问题
- D. 兴趣为师，培养创新少年

57. 研究表明，中小学生学习睡眠严重不足，减少睡眠时间不仅对提升学业成绩“收效甚微”，对学生的身心健康、兴趣爱好等多方面将带来更严重的负面影响。在成绩一般的学生群体中，每周参与校外补课的时间过多，学生学业成绩不增反降；在成绩优秀的学生群体中，每周参与校外补课的时间过多，学生内部学习动机和主观幸福感不增反降。学生平均睡眠时间每减少 1 小时，学生的学习压力和网络成瘾的比例会显著上升，而主观幸福感、学习兴趣、艺术兴趣和体育兴趣等均会有不同程度的下降。

对文段概括最恰当的一项是（ ）

- A. 中小学生学习睡眠严重不足
- B. 补课越多学习成绩越差
- C. 学生学习压力越大幸福感越低
- D. 中小学生学习睡眠不足带来的负面影响

58. 如今，直播间成为线上购物最燃的“战场”。11月10日晚，在西安诺瓦星云科技股份有限公司上班的高俊威，早早守在了几位头牌主播的直播间。护肤品、日用品、电子产品，看着订单里的“战利品”，“剁手”后的高俊威忍不住感叹，“这下子囤够了”。近日，有关调查显示，2020年中国直播电商市场规模超 1.2 万亿元，年增长率为 197%，预计 2023 年直播电商规模将超过 4.9 万亿元。不过直播带货“一路高歌”的同时也问题频现。中国石油大学研究生陈苗发现，很多时候自己买来的食品与直播间看到的还是有些差距，并没有看起来那样好吃。因此，消费者莫要因为低价诱惑一时“上头”。

这段文字接下来讲的是（ ）

- A. 直播带货虽然发展如火如荼但是其中的问题也频频出现
- B. 女性消费者与男性相比受到低价诱惑而购买的情况更多
- C. 列举高俊威观看头牌直播间后会产生的一些受益现象
- D. 列举消费者因为低价诱惑“上头”出现过的类似问题

59. 数字化阅读已是大势所趋，有声书近年来也紧随电子书成为后起之秀。毕竟，不是所有人都有条件，能够随时在一个安静的书桌前打开一本书去细细品读。身处快节奏的社会，上班族在通勤时有阅读充电的需求；亲子教育中，有声读物对儿童来说接受度也更高。此外，视障人群对声音内容的需求更是不容忽视。可以说，有声书的崛起，填补了这些空白的阅读场景。

对文段概括最恰当的一项是（ ）

- A. 数字化阅读已是大势所趋
- B. 上班族在通勤时有阅读充电的需求
- C. 视障人群对声音内容的需求不容忽视
- D. 有声书丰富了阅读场景

60. 以方言创作并传播的文学、歌曲、影视、综艺等作品深受大众喜爱。比如，热播剧《山海情》中的方言和剧情更加贴合，闽南语歌曲《大田后生仔》在短视频平台的播放量超 20 亿次。这些用方言表达的

## 速小通资料库

具有地方特色的文化现象，统称方言文化，其内涵主要包括两方面：一是具有文化意义和文化价值的方言现象，主要指用方言称说的地方名物，如房屋建筑、服饰、饮食等现象；二是具有文化意义和文化价值的方言民俗或艺术，包括口彩禁忌、婚育丧葬、祭祀信奉等方言民俗活动，以及曲艺、戏剧、故事传说等方言文艺活动。

根据上述文字，说法正确的一项是（ ）

- A. 电视剧由于方言和剧情贴切深受喜爱
- B. 方言文化相较于其他文化内涵最为丰富
- C. 方言文化就是用方言表达地方特色的现象
- D. 房屋建筑属于方言民俗艺术

## 第三部分 数量关系

（共 10 题，参考时限 10 分钟）

在这部分试题中，每道题呈现一段表述数字关系的文字，要求你迅速、准确地计算出答案。

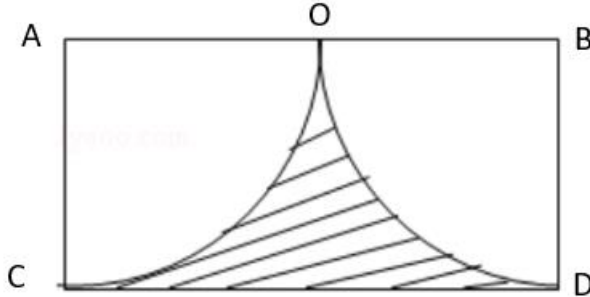
请开始答题：

61. 某花店今日购进红玫瑰与白玫瑰若干支，红玫瑰与白玫瑰的数量比为 4:3。随后，将购进的玫瑰分成甲、乙两组，已知甲组的玫瑰数量为 91 支，红玫瑰与白玫瑰的数量比为 8:5，乙组红玫瑰与白玫瑰的数量比为 3:4，则总共购进的玫瑰数量为多少支（ ）
- A. 98
  - B. 105
  - C. 119
  - D. 126
62. 小明与小何、小玲、小婷一起玩骰子，每 2 人一队，每人限摇一次，对比每支队伍摇出来的数字相加之和，大的一方即可获胜。已知小明、小玲一队的数字和是 7，则小何、小婷一队获胜的概率是（ ）
- A.  $\frac{1}{6}$
  - B.  $\frac{1}{4}$
  - C.  $\frac{1}{3}$
  - D.  $\frac{5}{12}$
63. 小松鼠采松子，晴天每天可采 20 个，雨天每天可采 12 个，它一连几天采了 112 个松子，平均每天采 14 个。问这几天当中有几天有雨（ ）
- A. 4
  - B. 5
  - C. 6
  - D. 7
64. 将三根铁棒竖直插入装有水的水桶中，露出水面的长度分别为 $\frac{1}{2}$ 、 $\frac{1}{3}$ 、 $\frac{1}{4}$ ，已知三根铁棒的总长度为 145cm，问水桶中的水深多少（ ）
- A. 30cm
  - B. 35cm
  - C. 40cm
  - D. 45cm
65. 办公室工作人员一共有 10 个人，某次参加会议，已知全部人员都到场。问恰好有 3 个人坐错位置的情况一共有多少种（ ）

## 速小通资料库

- A. 48  
C. 240
- B. 60  
D. 140

66. 如下图所示，在长方形草地  $ABDC$  上要修建两个四分之一圆形花坛，已知  $AC = OA = OB = 2m$ ，则图中阴影部分的草地面积约为（ ）平方米。



- A. 1.72  
C. 6.28
- B. 3.14  
D. 4.86

67. 某工厂要 1600 件工艺品，如果由 A、B、C 三人合作生产，完成任务时 A 生产了 480 件；如果由 A、B 两人合作生产，完成任务时 A 生产了 960 件；如果由 A、C 两人合作生产，完成任务时 C 生产了多少件（ ）

- A. 800  
C. 1000
- B. 900  
D. 1050

68. 一只装有动力桨的船，其单靠人工划船逆流而上的速度是水速的 2 倍。现该船靠人工划动从 A 地顺流到达 B 地，原路返回时只开足动力桨行驶，用时比来时少  $\frac{1}{3}$ 。问船在静水中开足动力桨行驶的速度是人工划船速度的多少倍（ ）

- A. 2  
C.  $\frac{7}{3}$
- B.  $\frac{3}{2}$   
D. 3

69. 某衬衫打八折出售后，仍能获得 20% 的利润。那么按定价出售时，期望利润率为（ ）

- A. 25%  
C. 40%
- B. 30%  
D. 50%

70. 小明从家骑摩托车到火车站赶火车。如果每小时行 30 千米，那么早到 15 分钟；如果每小时行 20 千米，则迟到 5 分钟。如果打算提前 5 分钟到，那么摩托车的速度应是每小时多少千米（ ）

- A. 24  
C. 26
- B. 25  
D. 27

## 第四部分 判断推理

(共 40 题，参考时限 40 分钟)

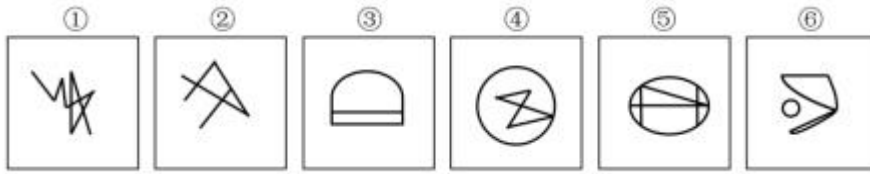


## 速小通资料库

根据题目要求，在四个选项中选出一个正确答案。

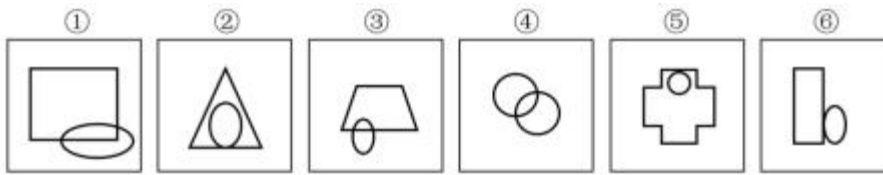
请开始答题：

71. 把下面六个图形分为两类，使每一类图形都有各自的共同特征或规律，分类正确的是（ ）



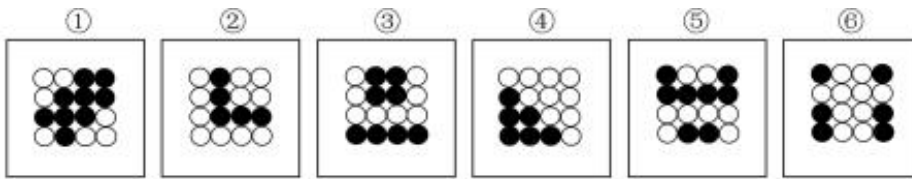
- A. ①②③；④⑤⑥                      B. ①③④；②⑤⑥  
C. ①③⑤；②④⑥                      D. ①②⑥；③④⑤

72. 把下面六个图形分为两类，使每一类图形都有各自的共同特征或规律，分类正确的是（ ）



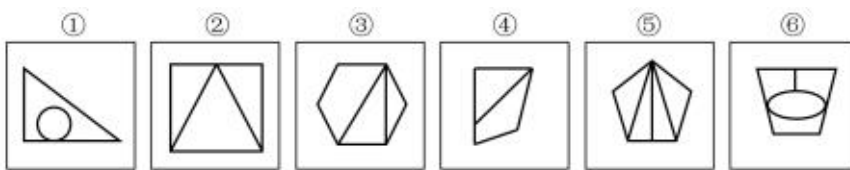
- A. ①②③；④⑤⑥                      B. ①③⑤；②④⑥  
C. ①③④；②⑤⑥                      D. ①②⑥；③④⑤

73. 把下面六个图形分为两类，使每一类图形都有各自的共同特征，分类正确的是（ ）



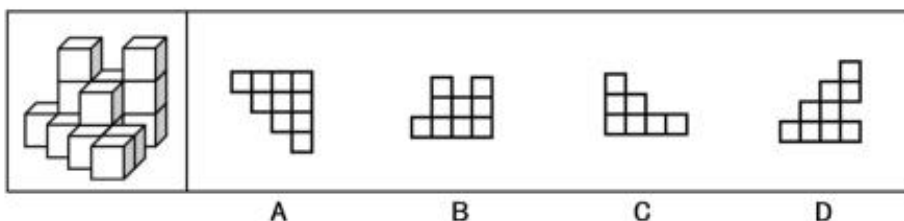
- A. ①②④；③⑤⑥                      B. ①③⑤；②④⑥  
C. ①③④；②⑤⑥                      D. ①②⑥；③④⑤

74. 把下面六个图形分为两类，使每一类图形都有各自的共同特征或规律，分类正确的是（ ）



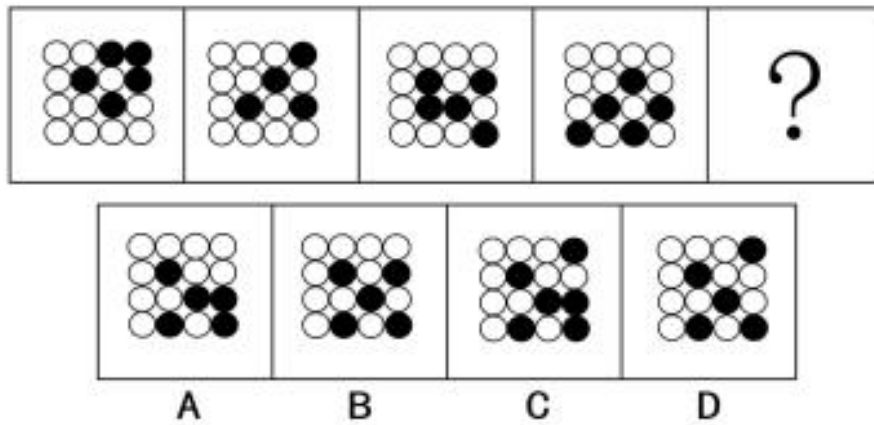
- A. ①②③；④⑤⑥                      B. ①③⑤；②④⑥  
C. ①③④；②⑤⑥                      D. ①③⑥；②④⑤

75. 左图为给定的多面体，从任意角度观看，哪一项不可能是该多面体的视图（ ）

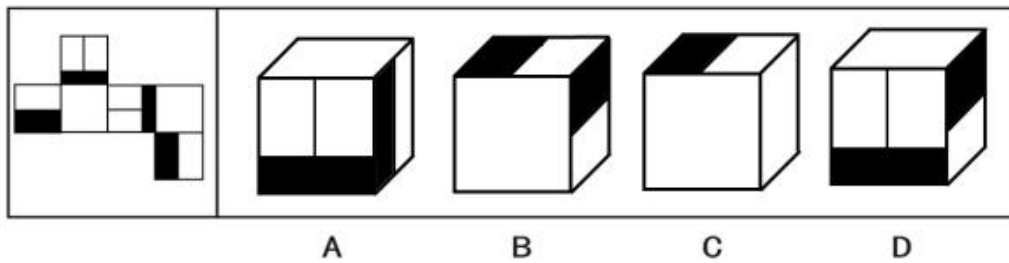


## 速小通资料库

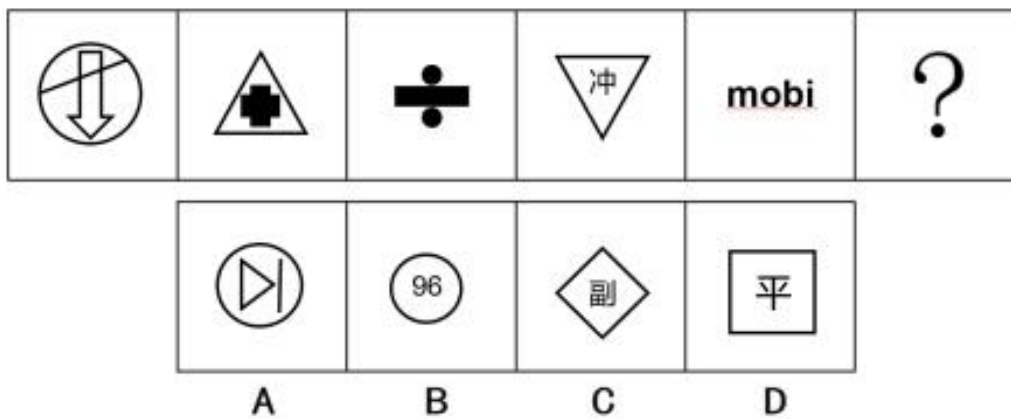
76. 从所给的四个选项中，选择最合适的一个填入问号处，使之呈现一定的规律性（ ）



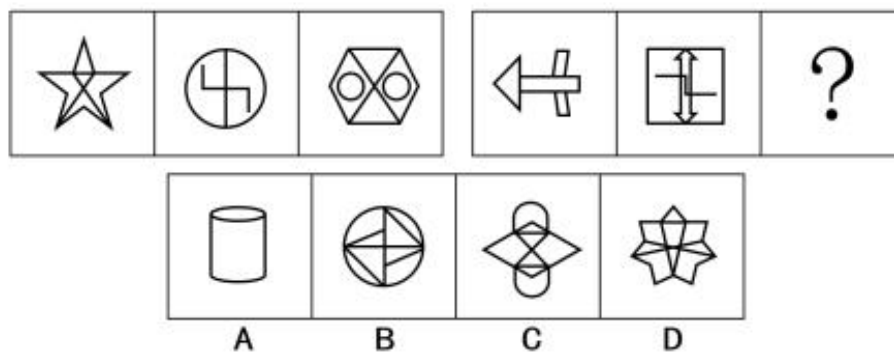
77. 左边给定的是正方体的外表面展开图，下面哪一项能由它折叠而成（ ）



78. 从所给的四个选项中，选择最合适的一个填入问号处，使之呈现一定的规律性（ ）

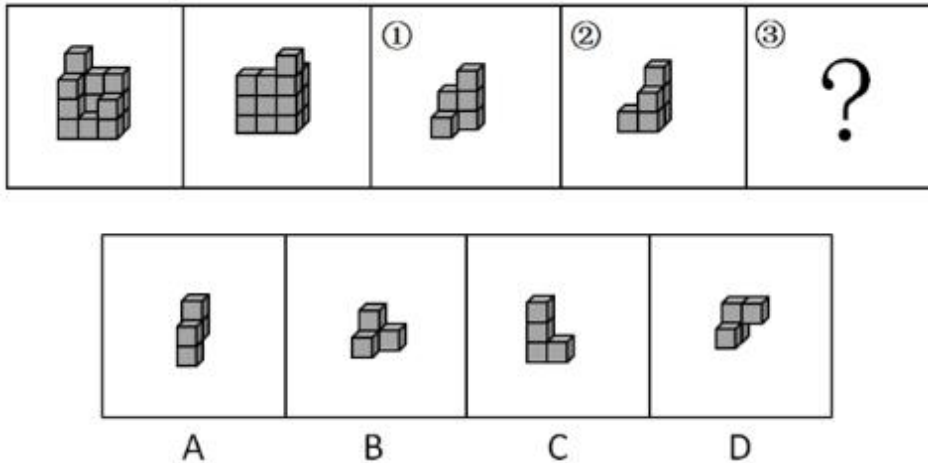


79. 从所给的四个选项中，选择最合适的一个填入问号处，使之呈现一定的规律性（ ）



## 速小通资料库

80. 左图给定的是由相同正方体堆叠而成多面体的正视图和后视图。该多面体可以由①、②和③三个多面体组合而成，请问以下哪一项能填入问号处（ ）



81. 知觉整体性是指在直接作用于感觉器官的外界刺激不完备的情况下，人们根据自己的经验，对刺激进行加工处理，使知觉保持完备的一种性质。
- 根据上述定义，下列未体现知觉整体性的是（ ）
- 在点子图中，尽管这些点子没有用线连起来，但仍能看到一个三角形
  - 在路上偶遇头戴墨镜、帽子的朋友时，我们仍然能够认出来
  - 他将黑、白两匹布，一半置于亮处，一半置于暗处，虽然每匹布的两半部分亮度存在差异，但仍能看出是一匹黑布或一匹白布
  - 在马路上经常会看到一些缺失某个字的广告牌，但缺失的部分并不会影响我们对广告牌完整意思的理解
82. 在太阳系形成的过程中，有一个很重要的物理规律：角动量守恒。它告诉我们：如果物体的质量分布更加靠近转轴，那么它的旋转就会加快，如果物体的质量分布距转轴更远，它的旋转速度就会减慢，下列现象不涉及角动量守恒的是（ ）
- 在星际物质逐渐聚集成恒星的过程中，旋转速度会加快
  - 越靠近太阳的行星，公转的周期越短
  - 北半球自南向北流的河流中，河岸右边普遍被冲刷严重
  - 芭蕾舞演员张开双臂旋转，再突然把双臂收到胸前旋转速度会加快
83. 随意注意是指有预定目的、需要意志努力、主动地对一定事物所发生的注意。这种注意是个体向自己提出一定的任务，并且自觉地把某些刺激从背景中区分出来作为注意的对象。外缘注意指的是无需意志努力，被吸引到的注意。
- 根据上述定义，以下属于外缘注意的是（ ）
- 会议室的门突然被推开了，学生们齐刷刷地看向门口
  - 幼儿园的小朋友正在全神贯注地对比两幅图片，玩拼图游戏
  - 小李第一次开车上路很紧张，时刻注意每个方向的行人和车辆
  - 小董想买一款新耳机，最近在持续关注不同款式的耳机口碑和价格
84. DNS 污染，是指一些刻意制造或无意间制造出来的域名服务器数据包，把域名指往不正确的 IP 地址。一旦有关网域的局域名服务器的缓存受到污染，就会把网域内的计算机引导到错误的服务器或服务器

## 速小通资料库

的网址。打开的网站不再是正确的初始网站。

根据上述定义，下列属于 DNS 污染的是（ ）

- A. 小李扫描二维码，受到了运营商的篡改
- B. 小王扫描二维码登陆无线路由器，必须要看一段广告后才能链接网络
- C. 某网页中弹出来的广告画面，点击关闭按钮后却直接进入广告页面
- D. 某运营商将某网站全盘复制下来，在网民输入正确的网址后，会跳转到这个复制网站，将自己的有关信息无形中透露给运营商

85. 复杂问语是一种暗含为对方所不具有或不能接受的某个预设而要求对方回答的问话。对这样的问话无论回答“是”或“不是”，都意味着承认其中所隐含的某个预设。

根据上述定义，以下不属于复杂问语的是（ ）

- A. 法官问被告：你对原告是不是很久之前就怀恨在心？
- B. 小赵问物理老师：永动机是钢铁制造的还是稀有金属制造的？
- C. 小贾问小珍：刚才看见你的手机很漂亮，是什么牌子的？
- D. 小李问小乔：好多年没有见了，你孩子上的哪个幼儿园？

86. 词语通常有两种用法。一种用法是用这个词去表达其所表达的对象；一种用法是用这个词表达其自身。其中，前一种用法通常表达的就是词语的意义，一般称之为指称用法；后一种用法通常表达的是这个词语的形式，一般称之为自名用法。

根据上述定义，下列加引号的词属于自名用法的是（ ）

- A. 男性一般喜欢“深色”
- B. 大猩猩一般生活在“森林”之中
- C. “其它”，现在一般都使用“其他”
- D. “商品”指的是用来交换的劳动产品

87. 感受域是指人对于各种刺激所能感受的范围，亦即在感觉系统中能够引起某一神经细胞或神经纤维反应的受刺激区域。

根据上述定义，下列各项不涉及感受域的是（ ）

- A. 盲人在嗅觉上拥有与正常视力的人所不同的特点
- B. 小铭觉得姑姑今天要来，不一会儿，姑姑果然来了
- C. 蝙蝠能发出人类听不见的各种声音
- D. 小红是奢侈品店销售，凭借手感他就可以区分真品和高仿品

88. 绝对音感又译绝对音准，是指一种能够在没有参照音的情况下，仍能够辨认出或者给出由乐器以及周围环境发出的音高的能力。

根据上述定义，属于绝对音感的是（ ）

- A. 钢琴家在不用看谱子的情况下，就能完整的弹奏一个印象中的音乐
- B. 某钢铁厂技术工人对于任何乐器任何一个音调，都能准确的说出是哪个音高
- C. 一位业余歌手听一截音乐就能记住每一个音高和音调并且完整无误的重新演奏
- D. 著名歌手在没有任何专业设备的情况下，能够准确的判定出来学生是否有哪个音高跑调

89. 心流状态是指当人们沉浸在当下着手的某件事情或某个目标中时，全神贯注、全情投入并享受其中而体验到的一种精神状态。

根据上述定义，以下不会让人产生心流状态的是（ ）

## 速小通资料库

- A. 现代人手机中的“抖音”软件  
B. 某正在热播的电视剧  
C. 具有吸引力的网络游戏  
D. 老师要随机点名一名学生回答问题
90. 鸵鸟其实是一种很强大的动物，一般猛兽都跑不过它。但它在遭遇危险时，会把头埋在沙坑里，蒙蔽自己的视线，自以为安全，以至于自己最后被捕杀。这是一种消极心态，逃避现实、自欺欺人。根据上述定义，以下符合鸵鸟心态的是（ ）
- A. 总是考不上大学的小文总是一遍又一遍告诉自己，一定可以成功  
B. 大家对张松的网店商品评价不一，张松总是很排斥的刻意避开那些批评，看着好评沾沾自喜  
C. 刘老师对最后一排的学生不管不问，似乎要放弃  
D. 对于老百姓抗议划车位的声，某街道相关部门不打算听取意见，按原计划进行
91. 铝合金窗：防盗窗（ ）
- A. 天窗：铁窗  
B. 皮鞋：通勤鞋  
C. 化妆包：包  
D. 银饰：古饰
92. 守株：待兔（ ）
- A. 卧虎：藏龙  
B. 掘室：求鼠  
C. 卧冰：求鲤  
D. 博古：通今
93. 家电：智能音箱：网络（ ）
- A. 生物：胡杨：阳光  
B. 学校：中学：教室  
C. 科学：化学：元素  
D. 杉树：乔木：空气
94. 养精蓄锐：精力充沛（ ）
- A. 修生养息：元气大伤  
B. 国泰民安：加强国防  
C. 谋无遗策：大获全胜  
D. 萎靡不振：通宵达旦
95. 粉尘：口罩（ ）
- A. 碗盘：洗洁精  
B. 光线：窗帘  
C. 洗手台：消毒液  
D. 围巾：手套
96. 单簧管：打击乐器（ ）
- A. 鳄鱼：两栖动物  
B. 鲸鱼：陆生动物  
C. 鹈鹕：飞行动物  
D. 玉米：春播作物
97. 查看房源：拍定房源：整体家装（ ）
- A. 翻阅报告：提供报告：加强联系  
B. 加装护栏：翻越护栏：管理牛羊  
C. 填写信息：提交信息：审核成功  
D. 查看数据：审核报表：抽验样本
98. 釉面砖：抛光砖：玻化砖（ ）
- A. 亚音速：音速：超音速  
B. 最高审判机关：最高人民法院：省级  
C. 愤恨：报复：厌恶  
D. 深邃：寂静：安稳
99. （ ）对于 唐朝 相当于 忽必烈 对于（ ）
- A. 赵匡胤；明朝  
B. 李世民；成吉思汗  
C. 李渊；元朝  
D. 武则天；宋朝
100. 凤毛麟角：车载斗量（ ）



## 速小通资料库

- A. 面面俱到：八面见光  
B. 东施效颦：照猫画虎  
C. 追本溯源：浮光掠影  
D. 循规蹈矩：按部就班

101. 父母晒娃本无所厚非，但以逐利为目的且畸形的晒娃却早已偏离了正常分享的轨道。萌娃短视频走红的背后，往往是一些父母利用孩子打造账号当作生意来经营。萌娃之所以能够得到人们的喜爱，正是因为他们自带的纯真无邪，然而部分家长的畸形晒娃，却往往是以牺牲孩子的童真为代价。教育学家认为，借萌娃牟利的家长慢慢会使孩子的身心健康得到巨大损伤。

以下哪项如果为真，最能支持上述教育学家的观点（ ）

- A. 呵护孩子的童真，为其营造健康的成长环境是为人父母者的责任和义务  
B. 孩子是家庭和社会的宝贝，不该成为父母赚钱的“宝贝”  
C. 萌娃视频的背后，往往有着过度暴露孩子隐私的潜在危害  
D. 懵懂的孩童在父母的引导下说着与认知不符的话，做着与年龄不符的行为，对其心理和认知的冲击是不可逆的

102. “卖萌不如卖惨”，一些平台与主播深信这样是流量秘诀。为了追逐流量，个别主播竟然丧失理性，不仅突破人伦道德，更逾越了法律底线。而直播平台在接到投诉后，依然袖手旁观，直到事态扩大才注销违法账号，这种长时间的沉默是对丑行的纵容。所以，只有从严从快依法处罚直播违法现象，才能让直播业挥别病态流量，彻底铲除低俗的土壤。

以下哪项如果为真，最能削弱上述论证（ ）

- A. 互联网直播服务管理规定中明确，对扰乱网络传播秩序，造成社会不良影响的低俗直播，予以严厉打击  
B. 光有处罚并不能够从根源上解决问题，加大文明宣传力度，提高素质教育势在必行  
C. 仅仅靠平台的监管，打击低俗的力度是远远不够的  
D. 低俗主播的背后往往都有着一些不为人知的苦楚与无奈

103. 小周身边的天蝎座普遍都思维缜密，但容易记仇，所以小周认为所有天蝎座的人都有这个特征。

以下哪项与上述的论证过程最为相似（ ）

- A. 网上的命运分析提到天庭饱满者均是有福之人，小刘的同学小王有此特征，所以小刘认为小王是有福之人  
B. 某公司招聘人才的理念是大度、孝顺、有责任心，小徐自认为是这样的人，他认为自己一定可以胜任这份工作  
C. 某软件公司抽样问卷部分用户操作习惯，分析发现这些用户普遍喜欢用右手大拇指操作，于是将软件的重要键位更新在了偏向右侧  
D. 所有的中国人都会说中国话，小李是中国人，他会说中国话

104. 近十年来，移居清河界森林周边地区生活的居民越来越多。环保组织的调查统计表明，清河界森林中的百灵鸟的数量近十年来呈明显下降的趋势。但是恐怕不能把这归咎于森林周边地区居民的增多，因为森林的面积并没有因为周边居民人口的增多而减少。

以下哪项如果为真，最能削弱题干的论证（ ）

- A. 警方每年都接到报案，来自全国各地的不法分子无视，深入清河界森林捕猎

## 速小通资料库

- B. 清河界森林的面积虽没减少，但主要由于几个大木材集团公司的滥砍滥伐，森林中树木的数量锐减
- C. 清河界森林周边居民丢弃的生活垃圾吸引了越来越多的乌鸦，这是一种专门觅食百灵鸟卵的鸟类
- D. 清河界森林周边的居民大都从事农业，只有少数经营商业

105. 有些人若有一次厌食，就会对这次膳食中有特殊味道的食物持续产生强烈厌恶，不管这种食物是否会对身体有利。这种现象可以解释为什么小孩更易于对某些食物产生强烈的厌恶。

以下哪项如果为真，最能加强上述解释（ ）

- A. 小孩的膳食搭配中含有特殊味道的食物比成年人多
- B. 对未尝过的食物，成年人比小孩更容易产生抗拒心理
- C. 小孩的嗅觉和味觉比成年人敏锐
- D. 和成年人相比，小孩较为缺乏食物与健康的相关知识

根据所给材料，回答 106—110 题。

某单位有甲、乙、丙、丁、戊、己、庚 7 位干部做志愿者，需要每周一到周日在路口协助交警进行交通疏导，每位干部每周只参与一次，对于下一周的工作安排，已知：

- (1) 甲只在工作日做志愿者；
- (2) 丙在周一、周三、周五的其中一天；
- (3) 丁和戊都在丙和己的后面。

106. 按照周一到周日的顺序排列，下列哪种情况符合上述要求（ ）

- A. 甲、丙、戊、庚、乙、己、丁
- B. 己、甲、庚、戊、丙、丁、乙
- C. 庚、己、丙、戊、乙、丁、甲
- D. 丙、庚、己、甲、丁、戊、乙

107. 如果丁在周三做志愿者，庚在周四做志愿者，有几种排列可能（ ）

- A. 1
- B. 2
- C. 3
- D. 4

108. 如果乙在周五做志愿者，补充以下哪项，可以确定唯一排列顺序（ ）

- A. 戊周三，庚周日
- B. 甲周二，庚周三
- C. 甲周三，戊周四
- D. 丁周四，戊周六

109. 如果己在周三做志愿者，下列哪种安排是不可能的（ ）

- A. 庚周一，戊周六
- B. 乙周一，戊周四
- C. 甲周一，乙周二
- D. 庚周二，丁周四

110. 如果丙和丁做志愿者的时间相邻，那么丁可选择做志愿者的时间有几种可能（ ）

- A. 1
- B. 2
- C. 3
- D. 4

## 第五部分 资料分析

(共 20 题，参考时限 20 分钟)





## 速小通资料库

B. 2016 年第一季度七大类传统劳动密集型产品中，有 6 类的出口额占外贸出口总值的比重高于上年水平

C. 2016 年一季度传统劳动密集型产品出口统计表中同比出现负增长的有 5 种

D. 2015 年一季度塑料制品的出口总额超过 500 亿元

材料二：根据以下资料，回答 116—120 题。

2021 年 6 月中旬流通领域重要生产资料市场价格变动情况

产品名称	单位	本期价格（元）	比上期价格涨跌（%）
一. 有色金属			
电解铜	吨	69363.0	-3.8
铝锭	吨	18820.0	1.3
铅锭	吨	15153.2	0.2
锌锭	吨	22560.0	-0.9
二. 农产品			
稻米	吨	3980.1	-0.5
小麦	吨	2532.5	0.2
玉米	吨	2818.3	-0.3
棉花	吨	16278.9	-0.1
生猪	千克	13.9	-12.0
大豆	吨	5259.3	0.0
豆粕	吨	3473.9	-3.0
花生	吨	8240.0	-1.7
三. 农业生产资料			
尿素	吨	2724.8	1.9
复合肥	吨	2686.3	3.3
农药	吨	47750.0	0.2
四. 林产品			
天然橡胶	吨	12306.2	-3.1
纸浆	吨	5412.5	-1.9
瓦楞纸	吨	4097.7	0.6

注：上期为 2021 年 6 月上旬。

116. 下列作物中，2021 年 6 月中旬价格比上旬下降最多的是（ ）

- A. 花生  
B. 豆粕  
C. 棉花  
D. 稻米

117. 表格中有色金属按照 2021 年 6 月上旬价格排序正确的是（ ）

- A. 电解铜 < 锌锭 < 铝锭 < 铅锭  
B. 电解铜 > 锌锭 > 铝锭 > 铅锭  
C. 电解铜 > 锌锭 > 铅锭 > 铝锭  
D. 电解铜 > 铝锭 > 锌锭 > 铅锭

118. 假设 2021 年 6 月中旬流通前小麦的成本价格为 2453.0 元/吨，玉米的成本价格为 2073.5 元/吨。那么小麦的流通价格利润率较玉米约（ ）

- A. 高 23 个百分点  
B. 高 33 个百分点  
C. 低 23 个百分点  
D. 低 33 个百分点

## 速小通资料库

119. 2021年6月中旬林产品中价格相比上期增长的产品,约增长了多少元( )

- A. 18.8  
B. 21.1  
C. 24.4  
D. 28.9

120. 能从上述资料得出的是( )

- A. 2021年6月中旬与6月上旬相比,有9种产品价格上涨  
B. 2021年6月中旬,我国复合肥本期价格占农业生产资料的比重高于上年同期  
C. 2021年6月中旬,我国铝锭价格环比增量超过250元  
D. 表中农业生产资料价格变动最多的产品是农药

材料三:根据以下资料,回答121—125题。

中国民航2019年12月份运输完成情况

统计指标	计算单位	本月		当年累计	
		实际完成数	比上年 同比增长(%)	实际完成数	比上年 同期增长(%)
运输总周转量	亿吨公里	108.1	4.7	1293.2	7.2
国内航线	亿吨公里	67.8	4.6	829.5	7.5
其中:港澳台航线	亿吨公里	1.1	-28.5	16.9	-3.5
国际航线	亿吨公里	40.4	4.9	463.7	6.6
旅客运输量	万人	5276.0	5.1	65993.0	7.9
国内航线	万人	4643.6	4.1	58567.9	6.9
其中:港澳台航线	万人	69.6	-28.4	1107.6	-1.7
国际航线	万人	632.4	12.9	7425.1	16.6
货邮运输量	万吨	71.3	6.3	753.2	2.0
国内航线	万吨	49.1	8.3	511.2	3.1
其中:港澳台航线	万吨	1.9	-7.4	22.2	-5.4
国际航线	万吨	22.2	2.2	242.0	-0.3
旅客周转量	亿人公里	946.4	5.5	11705.1	9.3
国内航线	亿人公里	677.1	4.1	8520.2	8.0
其中:港澳台航线	亿人公里	9.6	-31.9	160.5	-2.8
国际航线	亿人公里	269.3	9.2	3185.0	12.8
货邮周转量	亿吨公里	24.1	2.1	263.2	0.3
国内航线	亿吨公里	7.5	8.3	78.6	4.1
其中:港澳台航线	亿吨公里	0.2	-13.5	2.8	-6.9
国际航线	亿吨公里	16.6	-0.4	184.6	-1.3

注:部分数据因四舍五入的原因,存在总计与分项合计不等的情况。

121. 2019年1—11月,中国民航货邮运输量中国际航线的占比约为( )

- A. 30%  
B. 32%  
C. 35%  
D. 37%

122. 2019年1—11月,中国民航平均每月的旅客运输量约为( )万人

- A. 6000  
B. 5800  
C. 5500  
D. 4800

## 速小通资料库

123. 2018 年，中国民航货物运输总周转量约为（ ）亿吨公里
- A. 750  
B. 1105  
C. 1390  
D. 1210
124. 2019 年，中国民航平均每人次旅客运输距离约比上年同期（ ）（平均每人旅客运输距离 =  $\frac{\text{旅客周转量}}{\text{旅客运输量}}$ ）
- A. 上升 1.3%  
B. 下降 1.7%  
C. 上升 0.4%  
D. 下降 4.0%
125. 能够从上述材料中推出的是（ ）
- A. 2018 年 12 月份，中国民航货邮运输量国际航线的占比约为 32%  
B. 2019 年，货邮周转量中国内航线和国际航线的占比均比上年有所上升  
C. 2019 年，国内航线中非港澳台航线的旅客周转量不到 8000 亿人公里  
D. 2019 年 12 月份，平均每吨货邮运输距离同比上升

材料四：根据以下资料，回答 126—130 题。

2018 年，某省地区生产总值 17289.2 亿元，其中，第一产业增加值 1753.8 亿元，按名义增速计算增长 3.2%（下同）；第二产业增加值 6807.3 亿元，增长 5.1%；第三产业增加值 8728.1 亿元，增长 6.0%；三次产业增加值比例约为 10.1：39.4：50.5。第一、二、三产业对生产总值增长的贡献率分别为 6.7%、37.2%和 56.1%。常住人口人均生产总值达到 68302 元，比上年增长 5.0%。

全省常住人口 2531.2 万人。其中，城镇人口 1587.1 万人，乡村人口 944.1 万人；常住人口城镇化率达 62.7%，比上年提高 0.7 个百分点。男性人口 1303.6 万人，女性人口 1227.6 万人。全年出生率为 8.35‰，死亡率为 5.95‰。

（注：城镇化率指一个地区城镇常住人口占该地区常住总人口的比例）

126. 2018 年，该省地区生产总值同比增长约为（ ）
- A. 6.1%  
B. 5.3%  
C. 1.2%  
D. 3.0%
127. 2017 年，第三产业增加值约是第一产业增加值的多少倍（ ）
- A. 5.3  
B. 5.0  
C. 4.9  
D. 4.2
128. 2018 年全省常住人口中，男性人口占比约为（ ）
- A. 51.5%  
B. 62.7%  
C. 32.3%  
D. 48.5%
129. 2018 年，该省常住人口同比增长约为（ ）
- A. 0.29%  
B. 0.35%  
C. 0.41%  
D. 0.52%
130. 根据上述材料不能推出的是（ ）
- A. 2017 年全省地区生产总值  
B. 2017 年全省常住人口  
C. 2017 年全省城镇常住人口  
D. 2018 年全国人口自然增长率