

准考证号

姓名

线

封

密

贵州博思贤公考

2023 年 6.17 省直事业单位笔试

公共基础知识（考生回忆版）

重要提示：

为维护您的个人权益，确保公务员考试的公平公正，请您协助我们监督考试实施工作。

本场考试规定：监考老师要向本考场全体考生展示题本密封情况，并邀请 2 名考生代表验封签字后，方能开启试卷袋。

一、常识判断，共 15 题，每题 1 分，共计 15 分，请根据题目要求，在四个选项中选择最恰当的一个答案。

1. 2022 年 3 月，习近平总……国家战略体系和能力，下列相关说法正确的一项是 ()。

- ①关键是要在一体……国家战略能力最大化
- ②必须向改革创新……体制机制，完善政策制度，形成各司其职、紧密协作、规范有序的工作格局
- ③要加强重大基础设施……长远账，提高共建共用共享水平
- ④要强化国防科技……新发展模式，增强产业链供应链韧性

C. 3 项

2. 党的二十大报告指出，要发展……相关说法正确的是 ()。

- ①加强人民……各种途径和形式管理国家事务
- ②坚持党……作为专门协商机构的作用。加强制度化、规范化、程序化等功能建设
- ③完善基层直……自我管理、自我服务，自我教育、自我监督的实效
- ④巩固和发……导宗教与社会主义社会相适应

C. ①③④

3. 2023 年 5 月……拔宇宙线观查站 () 迎来关键节点。

顺利通过国家……最高、规模最大、灵敏度最强的宇宙线观查站。

D. “拉索”

4. 习近平总书记带领……的主要内涵不包括 ()。

C、坚持敢于胜利的革命英雄主义精神

5. 中国互联网络信息中心……达 10.67 亿，较 2021 年 12 月增长 3549 万，互联网普及率达 ()。

C. 75.6%

6. 毛泽东同志指出“因为胜利……情绪，可能生长，因为胜利，人民感谢我们，资产阶级也会出来撑场，则可能征服我们队伍中的意志薄弱者”。

以上发言出自()。

C 中共七届二中全会

7. 当前世界经济，一个突……不会引起()。

D 劳动生产率持续减少，市场有效需求严重不足

8. 《民法典》中新增的居住……说法，正确的是()

B. 居住权人不得将居住权进行转让或者继承

9. 某小区业主甲拟将楼栋……意，根据《民法典》。该事项应()。

A 经专有部分面积占比三分之二以上的业主且人数占比三分之二以上的业主同意

10 “诗家总爱西昆好 独…元好问所著《论诗三十首十二》这首诗评论的对象是唐代诗人()

A. 李商隐

11、() 节气意味着进入了…车神、食野菜、抢水等传统活动。

C、夏至

12、() 飞行任务是中国空间…次出现了两个航天员乘组的太空会
使。

C、神州十五号

13、近年来，我国糖…特点，典型症状包括()

- ①口干…减
- ②常感…增减
- ③体重…增加
- ④体重…常减少

D、①②④

14. 下列不属于水污染现象的是

()

B. 水葫芦的泛滥，导致水质恶化，鱼类死亡、航道堵塞

15. 每年3月3日是国际爱耳日，耳部出现功能受损情况时，会强起患者眩晕，主要原因在于（ ）

A. 耳蜗具有控制平衡的功能

B. 中耳负责感受平衡

C. 前庭负责感受平衡

D. 长时间高强度的噪音影响听觉神经

16. 高考，是实现教育公平…的重要_____，更是为党育人、为国育才的重要途径。

填入画横线部分最恰当的一项是（ ）

C. 亮相

17. 安全生产风险总有“黑天…全生产事故，都与意识_____责任落空有关。

填入面横线部分最恰当的一项是（ ）

A. 松懈

18. 生态环…力的过程，不可能_____。

填入面横线部分最恰当的一项是（ ）

B. 一蹴而就

19. 进入新时代，国家吧…高素质的农…都需要具有相当的科学素养。

填入面横线部分最恰当的一项是（ ）

A. 无论 还是

20. 神州十五号航…私奉献，更有举国体制的强力_____。

填入面横线部分最恰当的一项是（ ）

D. 奋斗托举

21. 基础教育阶段是_____学生学…学素质至关重要。

D. “孵化” 培养

22. 确保再生水利用目标可达…质量，提升人居环境品质，_____区域水资源急需矛盾。

C. 统一 缓解

23. 虚构国家机关名义的骗…地方发展、市场主体利益或整体公共利益造成_____。

依次填入划线部分最恰当的一项是（ ）

B. 涉及 损害

24. 快递发展离不开网…等商业文明的独特气息。

依次填入划线部分最恰当的一项是（ ）

A. 流行一时 简单化

25. 中国是全世界流失文物最多，…文物非法出境更要从源头建立机制牢牢堵上。

B. 刻不容缓

26. 在崇尚高效的社会，起床时…些时候却成为失败或者_____的佐证。

D. 捆绑 无所事事

27. “一抓一大把，一煮一大锅，一喝…出清晰的数字_____。

A. 印象“工笔画”

28. 毕业未就业的大学生是就…与舆论监督，依法惩治违法行为。

听之任之 强化

29. 在体育商业化的时代，职业联…台面上的比赛绝不能禁不起_____。

B. 等同 收获 推敲

30. 人们之所以在认知上还…买服务的家庭仍旧认为，做好养老服务_____。

C. 区分 运用 只需要服务和耐心即可

31. 历史是现实的一面镜子，是…出彩。上述文字主要意旨（ ）。

- A 历史事件的发生是后人生动的教科书
- B 历史事件更能使文章有底蕴，有内涵
- C 历史事件对现代写作的作用至关重要
- D 写作时要善于用历史事件来作为材料

32. 犬戎是古代的族名，曾活跃在…生活在西北地区的游牧民族称为“犬戎”或“戎狄”。

上述文字主要意旨（ ）。

- A 犬戎…展史
- B 游牧…的过程
- C 强盛…的过程
- D 犬戎…过程

33. 书仪最…书仪都将婚礼习俗作为重要事项加以阐述。

这段文字接下来最可能讲述的是（ ）

- A 书仪对履…和内容的规定
- B 书仪…的使用要领
- C 书仪在…地位和作用
- D 书仪…不同民俗特色

34. 科普作为面向全社会的公…章的节选，读文章最可能讲述的是（ ）。

- A 新时代科…要新的思维
- B 要树立…登的宏达格局
- C 科普…持原创精神
- D 科普需…游式的”引人入胜

35. 课堂教学是中华优……底的思想理论说服学生。用真理的强大的力量引导学生”。

下列说法与这段文字原意不同的是()。

- A 课课堂教……育的主要渠道
- B 音乐是……教育的前沿阵地
- C 音乐教育……学生各抒己见
- D 教师对学……坚持以理服人

36. 在旧石器时代早期, 受制……岩等各具特色的不同材质来制作石器。

这段文字反映了古人类具有() 样的能力。

- A 有意识的选择开……工策略来更好地适应环境现状
- B 对石材的利用……以平衡不同石材间存在的供需矛盾
- C 对全球突发事件……, 例如资源利用强化等
- D 兼顾石器制造……义和实际生产生活功能

37. 很早以前, 古代中……人对“天下”概念的认如源自()。

- A. 对自然……敬畏
- B. 对社……总结
- C. 对世……初认识
- D. 对文……提炼

38. _____十年来, 顺应一带……作考古。

填入划线部分最恰当的一项是。

- A 文物保护……明交流互鉴。
- B 为促进民心……。应积极履行国际考古。
- C 文物领域传统……方式是文物展览
- D 通过学者探讨……促进民心相通

39①当然, 也要避……班靠桥率的提升。

②从长远看，提升……并不矛盾，提升机……机坪地面工作安全开展。降低航班运机。会带来的衍生风险。

③对于千万级……充分考虑旅客航站内通行的便利度。

④市场主体……才能谋求更大发展。

⑤牵扯航班安排远……要机场、航空公司和民营管理。部门三者间的通力合作缺一不可。

⑥对于民……服务意识必不可少。

将以上六个句子的顺序重新排列。语序正确的。

A⑥……② B⑥……②

C④……⑤ D④……③

40. ①国产大飞机的……到的进一步提升。

②没有任何……发展航空制造业。

③首架 C91……碑，也是新发展起点。

④航空制造……高效率、降低成本的最优选择。

⑤正是全球化合作带给……的标准下线，更快融入民航客运市场。

⑥与此同时……多商业化指标，对经历过试航取证各项严苛试验的 919 而言。将是全全新的大卡。

将以上六个句子的顺序重新排列。语序正确的。

A④……⑥ B④……③

C②……③ D②……⑥

41、已知某单位有甲……则 2 人均是男生的概率 ()

A 在 25%以下

42、商店购进了某款新商品……品的成本价为 () 元。

B.2000

43、现有一杯 500g 的糖水……浓度超过 30%

C. 21.

44、有一批材料需要从工私运网甲地……剩下 500kg。公司要安排了 () 辆货车?


B.7

45、甲乙两人分别驾……了 600km 则甲的速度为多少千米每时?

A.60

判断推理

46.从所给的四个选项中，选择最合适的一个填入问号处，使之呈现一定的规律性。()



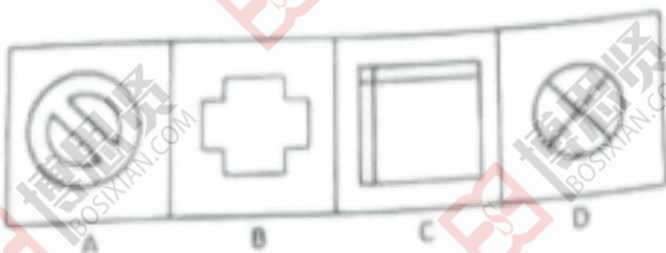
A、A

B、B


C、C

D、D

47.从所给的四个选项中，选择最合适的一个填入问号处，使之呈现一定的规律性。()



48.从所给的四个选项中，选择最合适的一个填入问号处，使之呈现一定的规律性。()



49.把下面的六个图形分为两类，使每一类图形都有各自的共同特征或规律，分类正确的

项是 ()



B、①②④, ③⑤⑥

50、从所给的四个选项中, 选出最合适的一个填城入括号处, 使之呈现一定的规律性。()



A、A

B、B

C、C

D、D

六、定义判断。共 5 题, 每题 1.5 分, 共计 7.5 分。每道题先给出定义, 然后列出四种情况, 要求你严格依据定义, 从中选出一个最符合或最不符合该定义的答案。注意: 假设这个定义是正确的, 不容置疑的。

51. 邻里效应是一种在邻……的也可能是负的, 或者两者兼而有之。根据上述定义, 下列属于邻里效应的是 ()

B. 某地新建了一座游乐场, 前来的游客为了方便选择下榻附近的旅馆, 使得该旅馆业绩大增

52. 区域历史……多样性分布格局。

根据上述定义，下列变化没有印证区域历史假说的是：

D. 青藏高原由于地质运动隆起后，使横断山区的环境区域隔绝，保留了大量孑遗物种

53. 失范理论认为……方式予以满足，犯罪由此产生。

根据上述定义，下列哪一类犯罪现象可以用失范理论解释：

B. 乙国陷入内战后，部分地区被反复拉锯争夺，在缺乏稳定政权管制的情况下犯罪频发

54. 小世界现象认……社交网络节点间的捷径化。

根据上述定义，下列试验旨在印证小世界现象的是（ ）。

C. 某人通过寄信给熟人，再由熟人寄信给熟人的熟人，反复若干次后将信寄给了该人完全不认识的指定陌生人

55. 人们在面对……争的精神状态。

根据上述定义，下列举动体现了适应性行为的是：

D. 地震时小王在短暂惊慌后躲进狭小空间，虽腿部被砸伤，最终幸免于难

七、类比推理。共 10 题，每题 1 分，共计 10 分。每道题先给出一组相关的词，要求你在备选答案中找出一组与之在逻辑关系上最为贴近、相似或匹配的词。

56. 棉花：棉花糖

B. 牛仔：牛仔裤

57. 频率：赫兹

A. 电阻：欧姆

58. 高雅：芭蕾舞（ ）

B. 奇幻：魔术戏法

59. 北平：金陵（ ）

D. 荆楚：吴越

60. 领悟：醍醐灌顶（ ）

D. 迷茫：不知所措

61. 周瑜：公瑾：美玉（ ）

C. 陆游 务观 赏玩

62、甲:乙:丙()

D、元:明:清

63、发射:火箭炮:远程打击()

B 投掷:烟雾弹:阻断视线

64、手术_对于 () 当于烹饪_对于 ()

A、医院 厨房

65 、 () 对于漫卷诗书喜欲狂全诗 相当于金榜题名对于 ()

D、山河熏国 一日看尽长安花

66. 某商店最近购入……活动, 以下事项如果为真, 最能支持上述论证,

A 这一……同幅度的增长

B 这一优惠……家的优惠力度大

C 购买该商……一优惠活动

D、没有购买……这一优惠活动

67. 同学小吴。小华。小康, 小……学, 得到的回应如下,

(1) 或者小吴……小华参跑了:

(2) 如果小康……吴没有参跑:

(3) 如果小……那么小吴参跑了:

(4) 小吴和小……有参跑

实际上, 四位……据此可以推出参跑的人是:

A 小康

B 小华

C 小林

D 小吴

根据下列资料, 回符 68-70 题

甲乙丙丁戊己六人去……队顺序按从前到后接队

已知:

①甲不排在……要么排在第三位

②丁和戊……置相邻

③乙排在……排在最后一位

68. 极据上述条件，下列那项一定为真：

- A 丁……第一位
- B 丙……在第一位
- C、乙……在第一位
- D. 己……第一位

69. 六人的排……到后，正确的可能是：

- A 戊……己
 - B. 丁……丙
 - C 乙……己乙
 - D、丙……戊乙
70. 若乙排在第二位，则下列说法一定正码的是：
- A 己……位
 - C. 戊……五位
 - B 丁……位
 - D 丙……六位

材料：2020 年全……（11.9 公斤/亩）。

2020 年各地区早稻产量表

71、2020 年……增长率约为()

C.6.8%

72、2019……量约为()万吨

B.2626.7

73.2019 年安徽……量约为()公斤/公顷

D.6139.9

74、表格中的 10 个早稻……/公顷的有（）

A.2 个

75、根据上述……确的是（）

A.江西 2019 年早稻播种面积小于湖南 2019 年早稻播种面积

（二）根据所给资料，回答 76~80 题

2022 年……17.40 万人。

76. 202…为（）亿元

- A, 1358.4
- B, 1402.7
- C, 1466.2
- D, 1504.1

77. 已知城镇化率为城镇常住人口/总常住人口，则 2022 年 A 区的城镇化率约

为 ()

B, 73.4%

78. 2021 年……化比约为 ()

D, 6.1:58.1:35.9

79. 若按照表 1 中的……口约有 () 万名男性

C, 26.2

80. 下列说法正确的是 ()

2022 年……经济总量的 62.6%

2017……值超过了 1000 亿元

2022 年……人员的比例为 21%

C, 2 项

第二部分 主观题

材料 1: ……三观的人。

作答要求

1. 根据给定材……原因。(原因)

要求: 全面准确、条理清晰, 字数不超过 200。

2. 参考给定材料……谈你对“搭子”文化的看法。(50 分)

要求:

- (1) 观点明确, 认识深刻
 - (2) 内容具体, 逻辑合理
 - (3) 语言流畅, 层次清晰
 - (4) 参考“给定材料”, 但不局限于给定材料
 - (5) 总字数 1000-1200 字
-